

Российская Федерация
Администрация
Губернатора
Оренбургской
Области

Управление
образования

20

№

Олимпиадная работа
по технологии
ученице 8 класса
МКОУ «Гимназия имени
Григория Ю. В.»
Лагутиной Златы Дмитриевны
Брусенцева Наталья Анатольевна



Общая часть

Задание 1. Какое устройство позволяет накапливать и сохранять энергию электрического поля?

Выберите один правильный ответ.

- а) катушка;
- б) сепаратор;
- в) конденсатор;
- г) магнит.

Ответ: в _____

06

Задание 2. Совокупность графических и текстовых документов, с помощью которых определяют вид, размеры и другие параметры будущего изделия — это ...

Выберите один правильный ответ

- а) конструкторская документация;
- б) техническая документация;
- в) ГОСТ;
- г) технологическая документация.

Ответ: а _____

16

Задание 3. Какие способы уменьшения загрязнения атмосферы относятся к виду активных способов?

Примечание: Активные способы предназначены для сокращения абсолютного количества выбросов вредных газообразных веществ в окружающую среду.

Пассивные способы предназначены для уменьшения вредного воздействия газообразных выбросов на растительный и животный мир.

Выберите все правильные ответы.

- а) строительство предприятий по проектам, прошедшим экологическую экспертизу;
- б) размещение предприятий с учетом розы ветров;
- в) повышение экологической безопасности сырья перед его применением;
- г) создание санитарно-защитных зон в виде лесопосадок и парков;
- д) расположение промышленных предприятий с учетом рельефа местности;
- е) рассеивание промышленных выбросов высокими дымовыми трубами.

Ответ: б в _____

16

Всероссийская олимпиада школьников по труду (технологии)

Муниципальный этап

2025/26 учебный год


7-8 класс

«Культура дома, дизайн и технологии»

Оренбургская область

Код (шифр) участника _____

Задание 4. Прототипом какого современного устройства является представленный на фото Механический рыцарь Леонардо да Винчи, который мог двигаться, приседать и самостоятельно приподнимать забрало доспехов? *Напишите название устройства.*



Ответ: Механический рыцарь 05

Задание 5. Соотнесите названия профессий будущего с соответствующими секторами рынка труда.

Ответ запишите в виде сочетания цифр и букв, например: 1А2Б3В

Секторы рынка труда	Профессии будущего
1. Технологический сектор	А - Инженер возобновляемой энергетики
2. Медицина и биотехнологии	Б - Дизайнер виртуальных миров
3. Экологический сектор	В - Специалист по благополучию пожилых людей
4. Социальная сфера	Г - Специалист по искусственному интеллекту
5. Креативные индустрии	Д - Инженер умных городов
6. Инфраструктура будущего	Е - Генетический консультант

Ответ: 1Г 2Е 3А 4Б 5Б 6Д 16

Всероссийская олимпиада школьников по труду (технологии)

Муниципальный этап

2025/26 учебный год

7-8 класс

«Культура дома, дизайн и технологии»

Оренбургская область

Код (шифр) участника _____

Специальная часть

Задание 6. Что означает слово «лазер»?

- а). Линейное излучение света.
- б). Усиление света с помощью вынужденного излучения.
- в). Электрическое устройство для освещения.
- г). Измерительный прибор.

Ответ: а 06

Задание 7. Какой 3D-принтер чаще всего используют в школе.

- а). Лазерный.
- б). Струйный.
- в). FDM-принтер (печать пластиком).
- г). Ультрафиолетовый.

Ответ: в 06

Задание 8. Какой вид является главным на чертеже?

- а). Вид спереди.
- б). Вид сверху.
- в). Вид слева.
- г). Вид справа.

Ответ: а 06

Задание 9. Что такое аппликация?

- а). Процесс склеивания деталей.
- б). Украшение ткани с помощью нашитых деталей.
- в). Глажка ткани.

Ответ: б 16

Всероссийская олимпиада школьников по труду (технологии)

Муниципальный этап

2025/26 учебный год

7-8 класс

«Культура дома, дизайн и технологии»


Оренбургская область

Код (шифр) участника _____

Задание 10. Чем можно заменить коровье молоко, если у человека непереносимость белка коровьего молока (любые продукты, содержащие белок коровьего молока, могут вызывать аллергию и нарушение пищеварения)?

Ответ: Безлактозное молоко 05

Задание 11. Определить какие продукты понадобятся для изготовления основного песочного теста продукты:



- 1 - мука.
- 2 - дрожжи.
- 3 - яйца.
- 4 - сахар.
- 5 - сода, гашенная уксусом.
- 6 - маргарин либо сливочное масло.
- 7 - растительное масло.
- 8 - кефир.
- 9 - молоко.
- 10 - соль.

Ответ: 1346 10 16

Всероссийская олимпиада школьников по труду (технологии)

Муниципальный этап

2025/26 учебный год

7-8 класс

«Культура дома, дизайн и технологии»

Оренбургская область

Код (шифр) участника _____

Задание 12. На картинках изображены ягоды, дайте им названия.



Ответ: 1 Боярышник

2 Золушка

3 Крас смородина

4 Рябина

5 Крыжовник

6 Черника

6

06

Всероссийская олимпиада школьников по труду (технологии)

Муниципальный этап

2025/26 учебный год

7-8 класс

«Культура дома, дизайн и технологии»

Оренбургская область

Код (шифр) участника _____

Задание 13. Совокупность характеристик, определяющих поведение материала в процессе его обработки: раскрое, шитье, влажно-тепловой обработке и эксплуатации изделия. Знание этих свойств необходимо для правильного выбора ткани, технологии изготовления и ухода за готовым изделием это свойство ткани *об*

Задание 14. Юбки по конструкции бывают.

- а). Прямые;
- б). Клиньевые;
- в). Диагональные;
- г). Конические;
- д). Расширенные.

Ответ: абв *об*

Задание 15. Назовите более 3-х видов ручных швов.

Ответ: прямой, обратный *об*

Задание 16. Какое освещение лучше выбрать для рабочего стола?

- а). Тёплый рассеянный свет.
- б). Холодный яркий свет.
- в). Красный неон.
- г). Приглушённый жёлтый.

Ответ: а *об*

Задание 17. Какой стиль интерьера характеризуется простотой и светлыми тонами?

- а). Барокко.
- б). Минимализм.
- в). Кантри.
- г). Ретро.

Ответ: б *об*

Задание 18. Как правильно ухаживать за комнатными растениями?

- а). Поливать каждый день, независимо от состояния.
- б). Подбирать полив по виду растения и сезону.
- в). Ставить под прямое солнце.
- г). Обрывать листья для красоты.

Ответ: б *об*

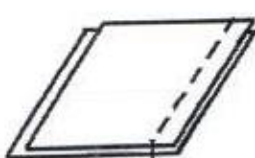


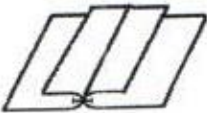


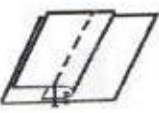



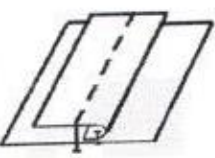



Задание 19. При покупке в магазине и при индивидуальном пошиве. Размер женской одежды определяет мерка:

- а). длина изделия
- б). полуобхват груди
- в). полуобхват талии

Ответ: а _____

06

Задание 20. Определите название соединительных машинных швов.

			1	
			2	
				3
				4

Ответ:

06

Всероссийская олимпиада школьников по труду (технологии)

Муниципальный этап

2025/26 учебный год

7-8 класс

«Культура дома, дизайн и технологии»

Оренбургская область

Код (шифр) участника _____

Кейс - задача: (количество баллов - 5)

Блюда из риса актуальны всегда — в любое время года, в будни и в праздники. Свои традиционные способы приготовления этой крупы встречаются у разных народов. С давних пор прижилось «сарацинское пшено» и в нашей стране, а сегодня, наверное, у каждой современной хозяйки есть свои любимые рецепты блюд из риса.

Вам предлагается приготовить молочную рисовую кашу.

1. (1 балл) Перечислите продукты, которые Вам потребуются для приготовления каши (ингредиенты).
2. (1 балл) Перечислите инструменты и оборудование, которые Вам потребуются для приготовления каши.
3. (2 балла) Опишите технологию приготовления каши.
4. (1 балл) Предложить украшение каши.

1) Рис, молоко, соль, сахар, масло

2) Кастролька, крышка, половник, ложка, тарелка

3) Промойте рис в отдельной тарелке → налейте в кастрольку молоко, (дождитесь пока оно закипит) добавьте соль и сахар по вкусу → дождитесь пока молоко закипит → добавьте в него рис → убавьте огонь → варите 4-10 минут под крышкой, периодически помешивайте. → выключите плиту → каша готова. → добавьте сливочное масло

4) Можно украсить свежими ягодами клубники и голубики;
кусочками сливочного масла, посыпкой мёдом;

Сверху посыпать гранатой и добавить соответствующий ей по вкусу сыр. Н-р: макамадвая граната и макамадвый сыр.

1+1+2+1

Всероссийская олимпиада школьников по труду (технологии)

Муниципальный этап

2025/26 учебный год

7-8 класс

«Культура дома, дизайн и технологии»

Оренбургская область

Код (шифр) участника _____

Творческое задание: (количество баллов – 5)

Перечислить необходимые инструменты, материалы, приспособления для работы с изделием макраме. Выполните рисунок любого изделия макраме.

Макраме - искусство плетения узелковым способом из толстых крученых нитей и различных шнуров. Этот способ создания уникальной текстильной структуры, является простейшей техникой, которая быстра в исполнении и очень эффективна.

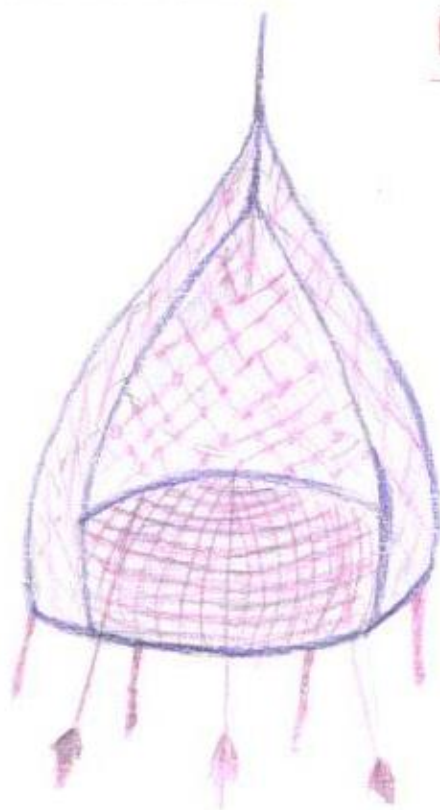
Перечислить необходимые инструменты, материалы и приспособления для работы с изделием:

Инструменты: крючок, спицы

Материалы: шнурок, толстые нити

Приспособления заклепки

Нарисовать любое простейшее изделие макраме



$0 + 1 + 1 + 1 + 2$